


Arbeitseinheit  
Deutsch und Mathematik



# Etwas vergleichen



das bedeutet zu schauen,  
ob es gleich ist,  
oder ob es Unterschiede gibt.

Man kann viele Dinge vergleichen:

Ist es gleich viel?

Oder ist es mehr? Oder ist es weniger?

Ist es gleich groß? Oder ist es größer?

Vielleicht ist es auch kleiner?

Ist es gleich schwer? Oder ist es schwerer?

Vielleicht ist es sogar leichter?


Ist es gleich schnell? Oder sogar schneller?

Vielleicht ist es auch langsamer?




Jeder Mensch, jedes Tier, jede Pflanze und jedes Ding haben Eigenschaften. Mit ihnen kann man Sachen vergleichen.


In der Sprache der Mathematik gibt es für das Vergleichen sogar eigene Zeichen. Kannst du dich noch an sie erinnern?




Elefant Emil ist  
**größer als**  
Elefant Wanda.




Wal Willi ist  
**schwerer als**  
Wal Wilma.




Katze Kitti ist  
**jünger als**  
Katze Kora.



Hund Harry ist  
**ruhiger als**  
Hund Hasso.




Affe Alex ist  
schlauer als  
Affe Andi.




Gils Hals ist  
länger als  
Gerris Hals.



Biene Bella ist  
fleißiger als  
Biene Barbara.




Maus Max ist  
kleiner als  
Maus Maja.




Hahn Hans ist  
**schöner als**  
Huhn Hella.




Der Schmetterling  
ist **leichter als**  
der Zitronenfalter.



Der Panter ist  
**schneller als**  
der Tiger.




Die Schnecke ist  
**langsamer als**  
die Schildkröte.




Die Hornisse ist  
gefährlicher als  
die Wespe.



Der Panda ist  
gefräßiger als  
der Koala.



Pferd Pia ist  
stärker als  
Pferd Paul.



Das Lamm ist  
sanfter als die  
Ziege.

Schreibe einen passenden Satz  
zum Bild!

vergleiche



















Schreibe einen passenden Satz  
zum Bild!

vergleiche
























Schreibe einen passenden Satz  
zum Bild!

vergleiche

















Schreibe einen passenden Satz  
zum Bild!

vergleiche



















# Adjektive steigern

groß - größer - am größten

klein - kleiner - am kleinsten

schwer - schwerer - am schwersten

leicht - leichter - am leichtesten

schnell - schneller - am schnellsten

langsam - langsamer - am langsamsten

dick - dicker - am dicksten

dünn - dünner - am dünnsten

alt - älter - am ältesten

jung - jünger - am jüngsten

fleißig - fleißiger - am fleißigsten

faul - fauler - am faulsten

wenig - weniger - am wenigsten

schlecht - schlechter - am schlechtesten

lang - länger - am längsten

kurz - kürzer - am kürzesten

## Achtung:

viel - mehr - am meisten


gut - besser - am besten




**Wichtige Übung**



Eva



Lilli




Marion

Eva hat viele Orangen.

Lilli hat mehr Orangen.

Marion hat am meisten Orangen.



Tim



Nele

Tabea+Aaron





Tim übt viel.

Nele übt mehr.

Tabea und Aaron üben am meisten.

Finde selber noch mehr Beispiele!



Die Suppe schmeckt gut.

Die Hauptspeise schmeckt besser.

Das Dessert schmeckt am besten.



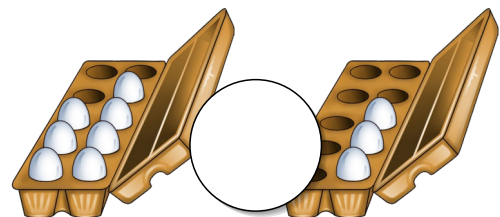
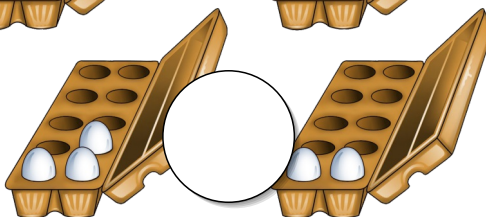
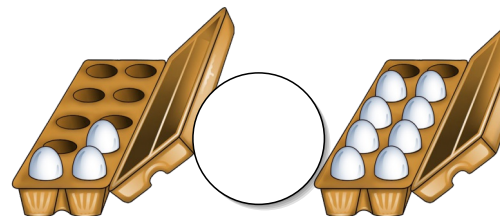
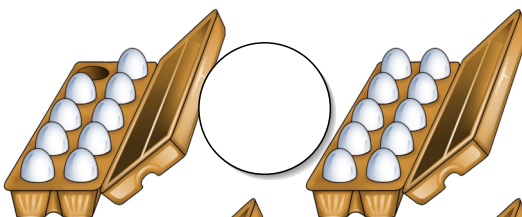

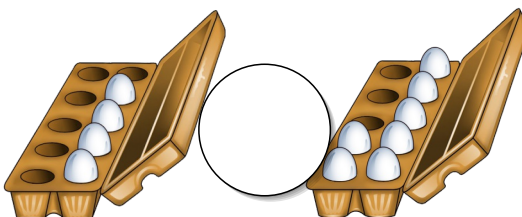



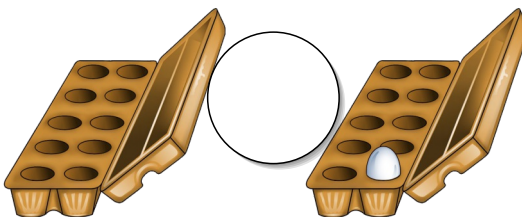
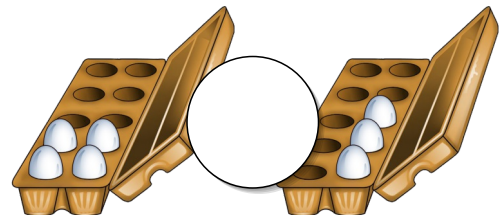
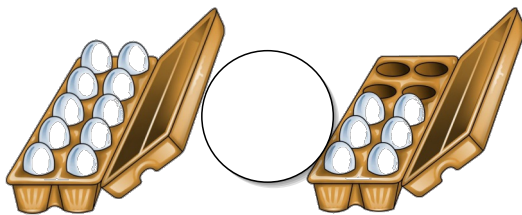


Der Hund hört gut.

Die Eule hört besser.

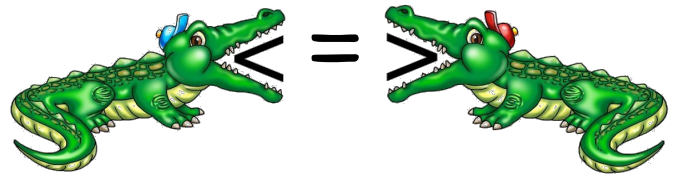
Die Fledermaus hört am besten.

Finde selber noch mehr Beispiele!

Das Krokodil hat viel Hunger! Was ist mehr?



# Größer, kleiner oder gleich?



2	4	2Z 4E	24
6	9	5Z 3E	27
8	5	6Z 8E	31
12	14	8Z 4E	17
21	15	7E 9Z	41
17	17	6E 7Z	13
53	35	8Z 9E	46
47	21	6Z 8E	29
63	66	9E 4Z	46
74	21	8Z 9E	87
62	24	9E 7Z	97
99	19	4E 8Z	84
29	91	1E 1Z	21
78	87		

# Längen vergleichen

Zeichne die Längen untereinander und vergleiche sie.  
Fahre die längste Strecke mit Farbe nach!

1 cm

4 cm

6 cm

7 cm

3 cm

9 cm

8 cm

10 cm

4 cm

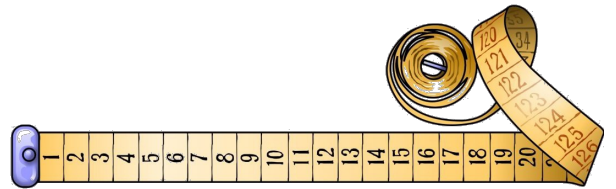
12 cm

6 cm

9 cm



# Längen vergleichen




Was ist länger? Schätze und überlege.

Miss mit deinem Lineal nach, wenn du dir unsicher bist!

Schreibe 6 Sätze ins Heft.

Zum Beispiel: Der Bleistift ist länger als der Füller.




dein Bleistift - dein Füller ?



dein Deutschbuch - dein Mathebuch?




deine Schere - dein Kleb?



dein Lineal - deine Federschachtel?



dein Heft - deine Mappe ?



dein Radiergummi -  
der Radiergummi deines Banknachbarn?




# Das Gewicht vergleichen

Was ist schwerer? Schätze und überlege.

Miss mit der Waage nach, wenn du dir unsicher bist!

Schreibe dann sechs Sätze ins Heft!

Zum Beispiel: Der Füller ist schwerer als der Bleistift.




dein Bleistift - dein Füller ?



dein Deutschbuch - dein Mathebuch?




deine Schere - dein Kleb?



dein Lineal - deine Federschachtel?




dein Heft - deine Mappe ?



dein Radiergummi -  
der Radiergummi deines Banknachbarn?

# Das Gewicht vergleichen

Was ist schwerer? Schätze und überlege.  
Schreibe dann die acht Sätze ins Heft!



der Igel - der Marienkäfer




die Maus - das Eichhörnchen



der Affe - der Hund



der Delfin - der Fisch




der Schwan - die Ente



der Panda - der Koala

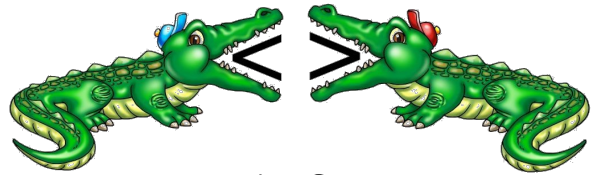


der Floh - der Schmetterling



der Storch - die Taube

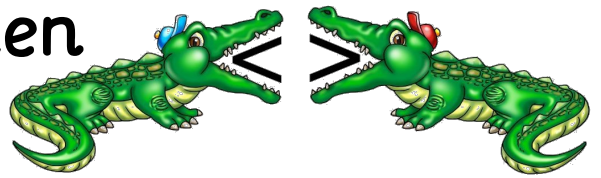
# Die Länge vergleichen



3m	3cm	3m	40cm
2m	2dm	1m	2dm
4cm	8mm	48cm	8mm
14m	14km	140m	4km
5m	50dm	15m	50dm
4dm	50cm	4dm	500cm
2cm	25mm	20cm	25mm
1dm	9cm	13dm	90cm
12mm	1cm	24mm	4cm
8dm	1m	71dm	13m
78cm	87mm	14cm	87mm
9m	10km	90m	1km
17cm	2dm	27cm	27dm

km	m	m	m	dm	cm	mm

# Das Gewicht vergleichen

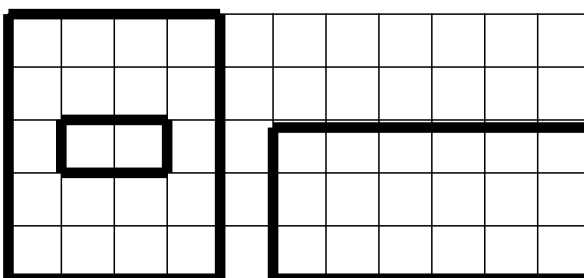
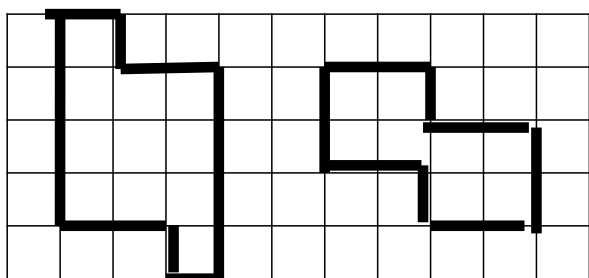
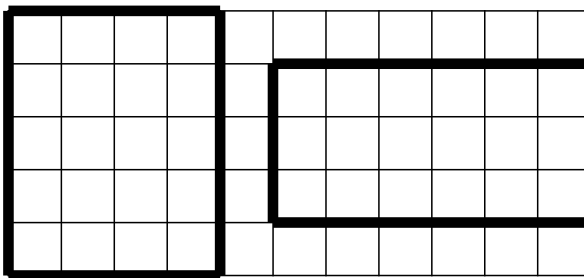
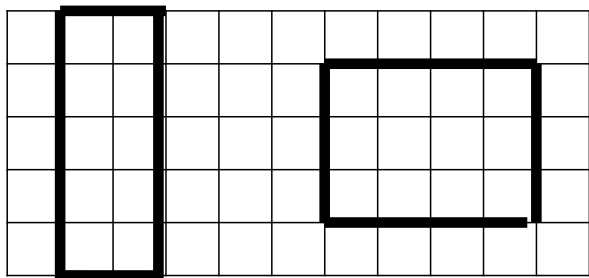
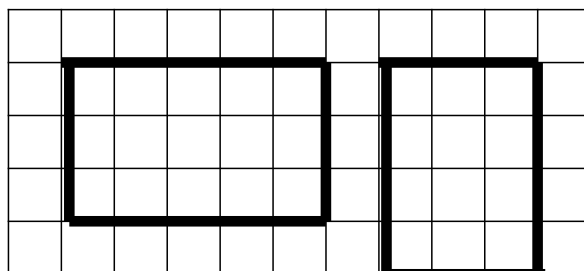
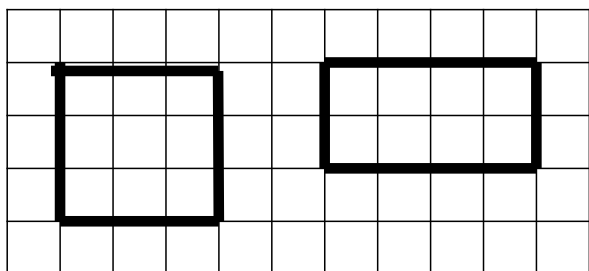


3kg	3dag	3kg	13dag
2dag	2g	57dag	2g
4t	4kg	40t	100kg
5kg	5g	1kg	500g
8g	8t	3g	3t
14g	41g	14g	87g
50g	5dag	500g	5dag
100g	1kg	100g	2kg
56dag	65g	69dag	65g
7t	700kg	2t	70kg
40g	4kg	400g	1kg
37kg	5t	890kg	5t

t	kg	kg	kg	dag	dag	g




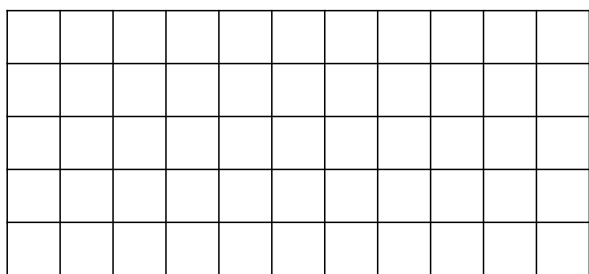
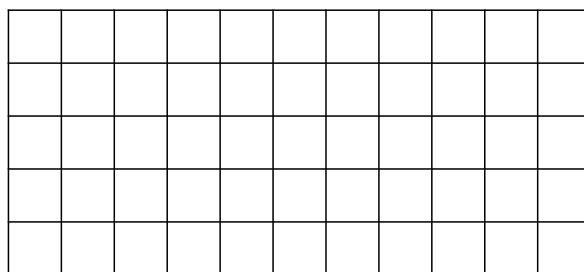

# Flächen vergleichen



Zähle die Kästchen - welche Fläche ist größer, welche Fläche ist kleiner?


Male die größere von beiden Flächen farbig an!

Jetzt zeichne selber immer zwei Flächen und markiere die kleinere von beiden farbig!



# Vergleiche die beiden Menschen!

Was ist gleich? Wo gibt es Unterschiede?


# Vergleiche die beiden Menschen!

Was ist gleich? Wo gibt es Unterschiede?







# Vergleiche die beiden Menschen!

Was ist gleich? Wo gibt es Unterschiede?











# In welchem Geldbeutel ist mehr?

Kreuze ihn an!



# In welchem Geldbeutel ist mehr?

Kreuze ihn an!



# In welchem Geldbeutel ist mehr?

Kreuze ihn an!

