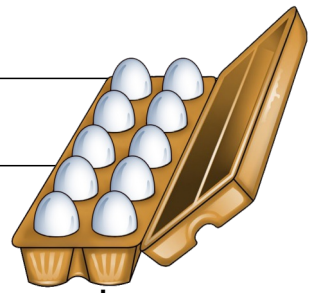


Sachaufgaben 23a



1. Der Bauer hat 40 Eier.
Er verpackt sie in 10er Schachteln. Wie viele Schachteln werden voll?

R :																			
A :																			

2. Der Bauer hat 30 Eier. Er verpackt sie in 10er Schachteln. Wie viele Schachteln werden voll?

R :																			
A :																			


3. Der Bauer hat 37 Eier. Er verpackt sie in 10er Schachteln. Wie viele Schachteln werden voll? Wie viele Eier bleiben übrig?

R :																			
A :																			

4. Der Bauer hat 45 Eier. Er verpackt sie in 10er Schachteln. Wie viele Schachteln werden voll? Wie viele Eier bleiben übrig?

R :																			
A :																			

Sachaufgaben 23b



1. Der Bauer hat 60 Eier.

Er verpackt sie in 10er Schachteln. Wie viele Schachteln werden voll?

R :																				
A :																				

2. Der Bauer hat 50 Eier. Er verpackt sie in 10er Schachteln. Wie viele Schachteln werden voll?

R :																				
A :																				

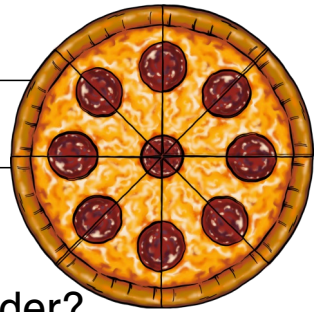
3. Der Bauer hat 70 Eier. Er verpackt sie in 10er Schachteln. Wie viele Schachteln werden voll? Wie viele Eier bleiben übrig?

R :																				
A :																				

4. Der Bauer hat 90 Eier. Er verpackt sie in 10er Schachteln. Wie viele Schachteln werden voll? Wie viele Eier bleiben übrig?

R :																				
A :																				

Sachaufgaben 24a



1. Mama macht Pizza. Sie schneidet sie in 8 Stücke.
 Wie viele Stücke bekommt jedes der 4 Familienmitglieder?

R :																			
A :																			

2. Mama macht Pizza. Sie schneidet sie in 8 Stücke.
 Wie viele Stücke bekommt jedes der 2 Familienmitglieder?

R :																			
A :																			

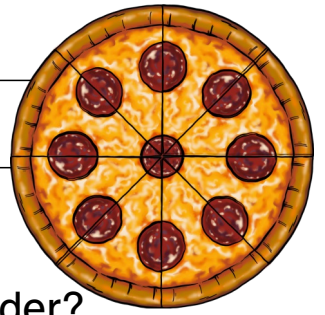
3. Mama macht für eine Party 5 Pizzen. Sie schneidet jede in 8 Stücke. Wie viele Stück Pizza gibt das?

R :																			
A :																			

4. Mama macht für eine Party 10 Pizzen. Sie schneidet jede in 8 Stücke. Wie viele Stück Pizza gibt das?

R :																			
A :																			

Sachaufgaben 24b



1. Mama macht Pizza. Sie schneidet sie in 12 Stücke.
Wie viele Stücke bekommt jedes der 4 Familienmitglieder?

R :																				
A :																				

2. Mama macht Pizza. Sie schneidet sie in 12 Stücke.
Wie viele Stücke bekommt jedes der 3 Familienmitglieder?

R :																				
A :																				


3. Mama macht für eine Party 3 Pizzen. Sie schneidet jede in 8 Stücke. Wie viele Stück Pizza gibt das?

R :																				
A :																				

4. Mama macht für eine Party 6 Pizzen. Sie schneidet jede in 4 Stücke. Wie viele Stück Pizza gibt das?

R :																				
A :																				

Sachaufgaben 25a



1. Susi isst gerne Eis. Eine Kugel kostet 2 €.
Susi möchte 2 Kugeln essen. Wie viel muss sie bezahlen?

R :																				
A :																				

2. Susi isst gerne Eis. Eine Kugel kostet 2 €.
Susi möchte 4 Kugeln essen. Wie viel muss sie bezahlen?

R :																				
A :																				


3. Susi isst gerne Eis. Eine Kugel kostet 2 €.
Susi möchte 3 Kugeln essen. Wie viel muss sie bezahlen?

R :																				
A :																				

4. Susi isst gerne Eis. Eine Kugel kostet 2 €.
Susi möchte 2 Kugeln essen. Wie viel muss sie bezahlen?

R :																				
A :																				

Sachaufgaben 26b



1. Oma hat ein Gemüsebeet. Sie pflanzt 4 Reihen Salat. In jeder Reihe sind 5 Köpfe. Wie viele Salat ist das?

R :																			
A :																			

2. Oma hat ein Gemüsebeet. Sie pflanzt 3 Reihen Salat. In jeder Reihe sind 6 Köpfe. Wie viele Salat ist das?

R :																			
A :																			

3. Oma hat ein Gemüsebeet. Sie pflanzt 8 Reihen Salat. In jeder Reihe sind 3 Köpfe. Wie viele Salat ist das?

R :																			
A :																			

4. Oma hat ein Gemüsebeet. Sie pflanzt 6 Reihen Salat. In jeder Reihe sind 5 Köpfe. Wie viele Salat ist das?

R :																			
A :																			

Sachaufgaben 27a



1. Sarah kauft ein Regal für 29 €. Sie bezahlt mit einem 50€ Schein. Wie viel bekommt sie zurück?

R :																				
A :																				

2. Sarah kauft einen Schrank für 49 €. Sie bezahlt mit einem 50€ Schein. Wie viel bekommt sie zurück?

R :																				
A :																				


3. Sarah kauft ein Regal für 19 €. Sie bezahlt mit einem 50€ Schein. Wie viel bekommt sie zurück?

R :																				
A :																				

4. Sarah kauft einen Schrank für 59 €. Sie bezahlt mit einem 100€ Scheinen. Wie viel bekommt sie zurück?

R :																				
A :																				

Sachaufgaben 27b



1. Sarah kauft ein Radio für 49 €. Sie bezahlt mit 50€. Wie viel bekommt sie zurück?

R :																					
A :																					

2. Sarah kauft ein Radio für 39€. Sie bezahlt mit einem 50€ Schein. Wie viel bekommt sie zurück?

R :																					
A :																					


3. Sarah kauft ein Radio für 46 €. Sie bezahlt mit zwei 50€ Scheinen. Wie viel bekommt sie zurück?

R :																					
A :																					

4. Sarah will zwei Radios für je 19 € kaufen. Wie viel muss sie bezahlen?

R :																					
A :																					

Sachaufgaben 28a



1. Leo würfelt 5mal eine Sechs.
Wie viele Augen hat er gewürfelt?

R :																			
A :																			

2. Leo würfelt 3mal eine Vier.
Wie viele Augen hat er gewürfelt?

R :																			
A :																			

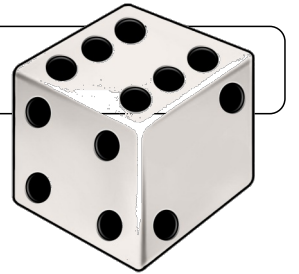
3. Leo würfelt 2mal eine Sechs und 3mal eine Zwei.
Wie viele Augen hat er gewürfelt?

R :																			
A :																			

4. Leo würfelt 3mal eine Fünf, 2mal eine Vier und 3mal eine Zwei.
Wie viele Augen hat er gewürfelt?

R :																			
A :																			

Sachaufgaben 28b



1. Leo hat 3mal die gleiche Zahl gewürfelt.
Er hat 15 Augen gezählt. Welche Zahl hat er gewürfelt?

R :																				
A :																				

2. Leo hat 4mal die gleiche Zahl gewürfelt.
Er hat 24 Augen gezählt. Welche Zahl hat er gewürfelt?

R :																				
A :																				


3. Leo hat 7mal die gleiche Zahl gewürfelt.
Er hat 21 Augen gezählt. Welche Zahl hat er gewürfelt?

R :																				
A :																				

4. Leo hat 9mal die gleiche Zahl gewürfelt.
Er hat 36 Augen gezählt. Welche Zahl hat er gewürfelt?

R :																				
A :																				

Sachaufgaben 29a



1. Monster Manni hat 3 Augen.
Wie viele Augen haben 10 solche Monster?

R :																				
A :																				

2. Monster Manni hat 3 Augen.
Wie viele Augen haben 8 solche Monster?

R :																				
A :																				

3. Monster Manni hat 3 Augen.
Wie viele Augen haben 63 solche Monster?

R :																				
A :																				

4. Monster Manni hat 3 Augen.
Wie viele Augen haben 12 solche Monster?

R :																				
A :																				

Sachaufgaben 30a



1. In der Schatztruhe sind 100 Goldstücke. Sie werden gerecht zwischen 10 Matrosen aufgeteilt. Wieviel bekommt jeder?

R :																				
A :																				

2. In der Schatztruhe sind 50 Goldstücke. Sie werden gerecht zwischen 10 Matrosen aufgeteilt. Wieviel bekommt jeder?

R :																				
A :																				

3. In der Schatztruhe sind 80 Goldstücke. Sie werden gerecht zwischen 10 Matrosen aufgeteilt. Wieviel bekommt jeder?

R :																				
A :																				

4. In der Schatztruhe sind 60 Goldstücke. Sie werden gerecht zwischen 10 Matrosen aufgeteilt. Wieviel bekommt jeder?

R :																				
A :																				

Sachaufgaben 30b



1. In der Schatztruhe sind 80 Goldstücke. Sie werden gerecht zwischen 8 Matrosen aufgeteilt. Wieviel bekommt jeder?

R :																				
A :																				

2. In der Schatztruhe sind 90 Goldstücke. Sie werden gerecht zwischen 9 Matrosen aufgeteilt. Wieviel bekommt jeder?

R :																				
A :																				

3. In der Schatztruhe sind 40 Goldstücke. Sie werden gerecht zwischen 4 Matrosen aufgeteilt. Wieviel bekommt jeder?

R :																				
A :																				

4. In der Schatztruhe sind 50 Goldstücke. Sie werden gerecht zwischen 5 Matrosen aufgeteilt. Wieviel bekommt jeder?

R :																				
A :																				